



UNIVERSIDADES PÚBLICAS DE LA COMUNIDAD DE MADRID
PRUEBA DE ACCESO A LAS ENSEÑANZAS UNIVERSITARIAS
OFICIALES DE GRADO

Curso **2011-2012**

MATERIA: GEOGRAFÍA

INSTRUCCIONES Y CRITERIOS GENERALES DE CALIFICACIÓN

Dispone de dos opciones para contestar (A y B). **Debe escoger exclusivamente una de ellas.**

La puntuación total será en ambas opciones de **10 puntos**, correspondiendo a la primera parte **1,5 puntos**, a la segunda **4 puntos**, a la tercera **2,5 puntos** y **2 puntos** a la cuarta.

TIEMPO. **Duración de la prueba:** “1 hora y 30 minutos”.

OPCIÓN A

1ª Parte

Defina, en el cuadernillo adjunto, **seis** de los siguientes términos o conceptos geográficos, utilizando como máximo una cara del cuadernillo:

Población activa, Bocage, Amplitud térmica anual, Parque tecnológico, Meseta, Balanza comercial, Dolina, C.E.C.A.

Puntuación máxima: 1,5 puntos.

2ª Parte

Tema: Las actividades económicas en España.

Desarrolle, de forma sintética, el tema propuesto (utilice como máximo ambas caras de un folio) atendiendo al menos a los siguientes aspectos:

- *Su evolución en tiempos recientes.
- *Análisis de las repercusiones de las crisis estructurales.
- *Consecuencias de la pertenencia a la Unión Europea.

Puntuación máxima: 4 puntos.

3ª Parte

Comentario de la fotografía adjunta:

Comente el paisaje de la lámina adjunta, atendiendo al menos, a:

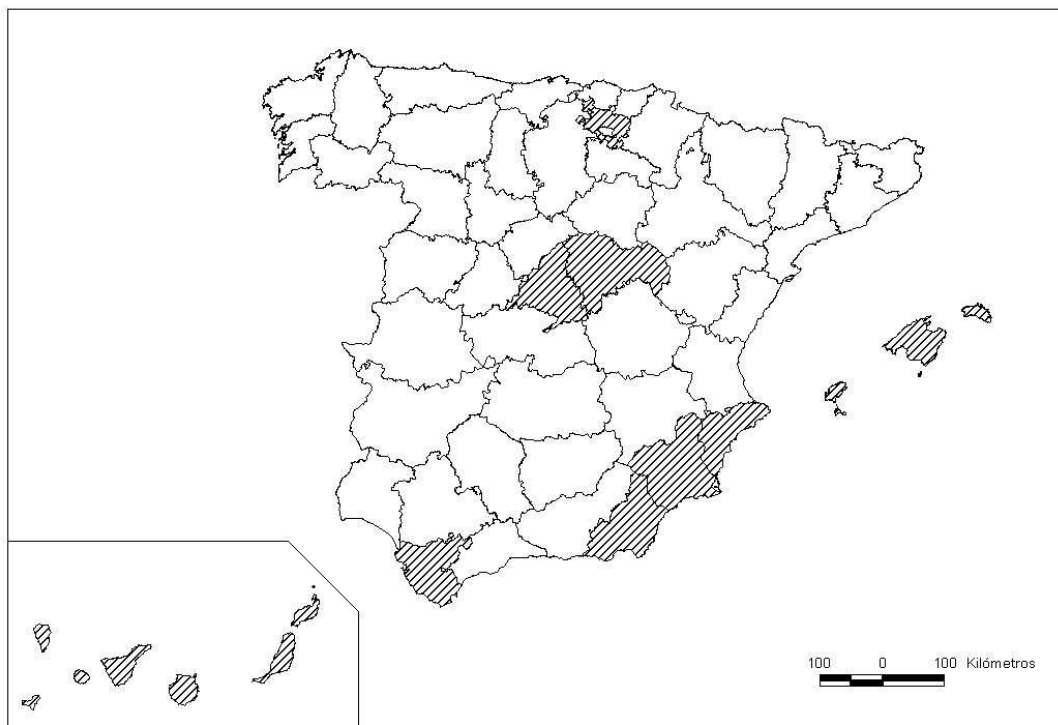
- a) Unidades del paisaje.
- b) Relaciones entre las unidades mencionadas, el soporte natural y la acción humana.
- c) Manifestaciones espaciales de las actividades económicas.

Puntuación máxima: 2,5 puntos.

4ª Parte

A la vista del mapa adjunto, que recoge las “*Provincias con una tasa bruta de mortalidad inferior al 7,8‰ (media nacional: 8,47‰)*”; indique el nombre de las mismas; señale las razones que explican esta distribución y comente algunas consecuencias emanadas de este hecho.

Puntuación máxima: 2 puntos.



FUENTE: INE, 2008. MOVIMIENTO NATURAL DE LA POBLACIÓN.

OPCIÓN B

1ª Parte

Defina, en el cuadernillo adjunto, **seis** de los siguientes términos o conceptos geográficos, utilizando como máximo una cara del cuadernillo:

Garriga, Desertificación, Central térmica, Acuerdo Schengen, Tómbolo, Densidad de población, Corriente en Chorro, Cuenca hidrográfica.

Puntuación máxima: 1,5 puntos.

2ª Parte

Tema: **Los movimientos migratorios en España, en la actualidad.**

Desarrolle, de forma sintética, el tema propuesto (utilice como máximo ambas caras de un folio) atendiendo al menos a los siguientes aspectos:

- Caracterización general.
- Las migraciones interiores y exteriores.
- Consecuencias sociales y económicas.

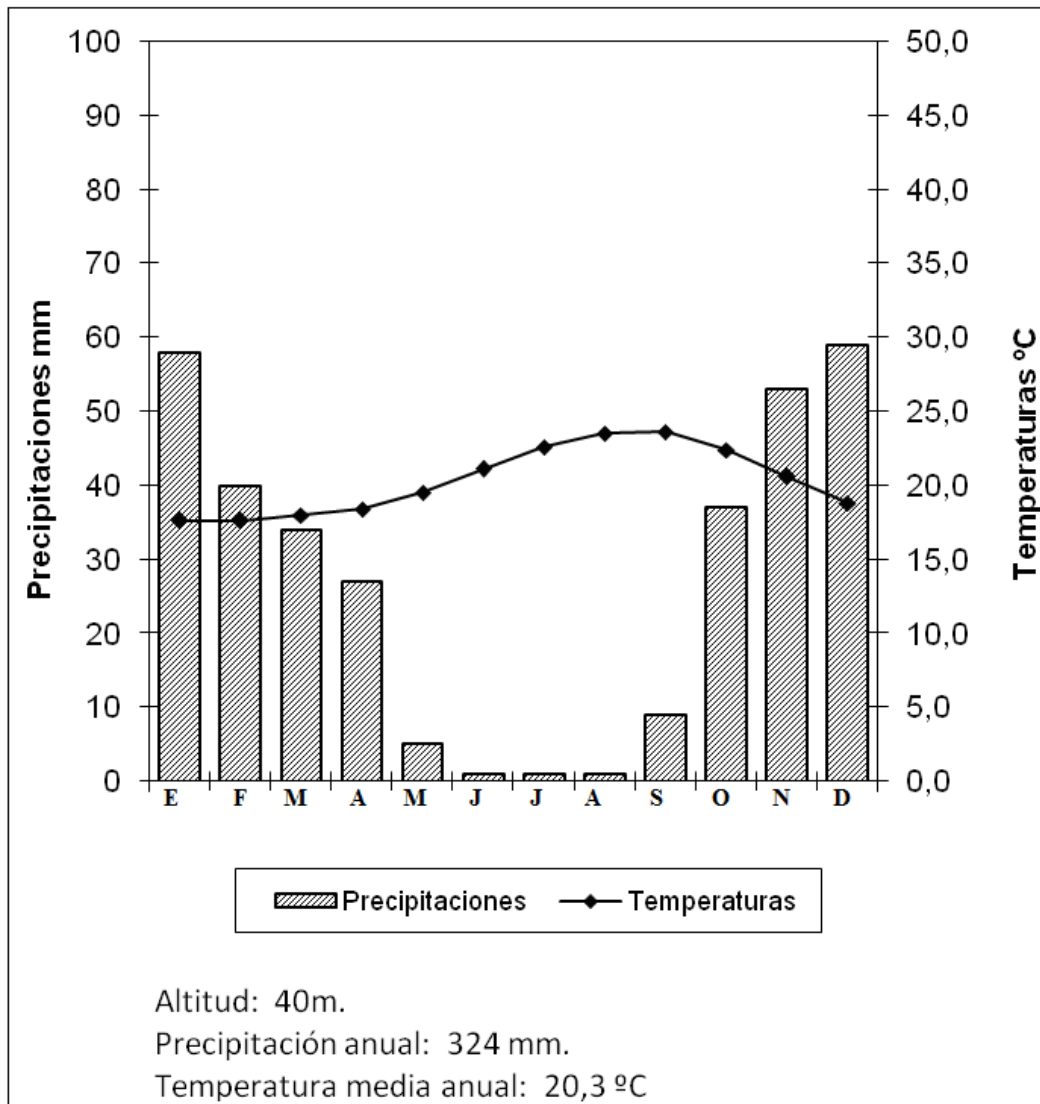
Puntuación máxima: 4 puntos

3ª Parte

Comentario del gráfico: Comente el *climograma* adjunto, atendiendo, al menos, a los siguientes aspectos:

- Distribución de las temperaturas y precipitaciones medias mensuales.
- Pertenencia a alguna de las variedades climáticas de España.
- Repercusión sobre el paisaje y las actividades humanas de este tipo de clima.

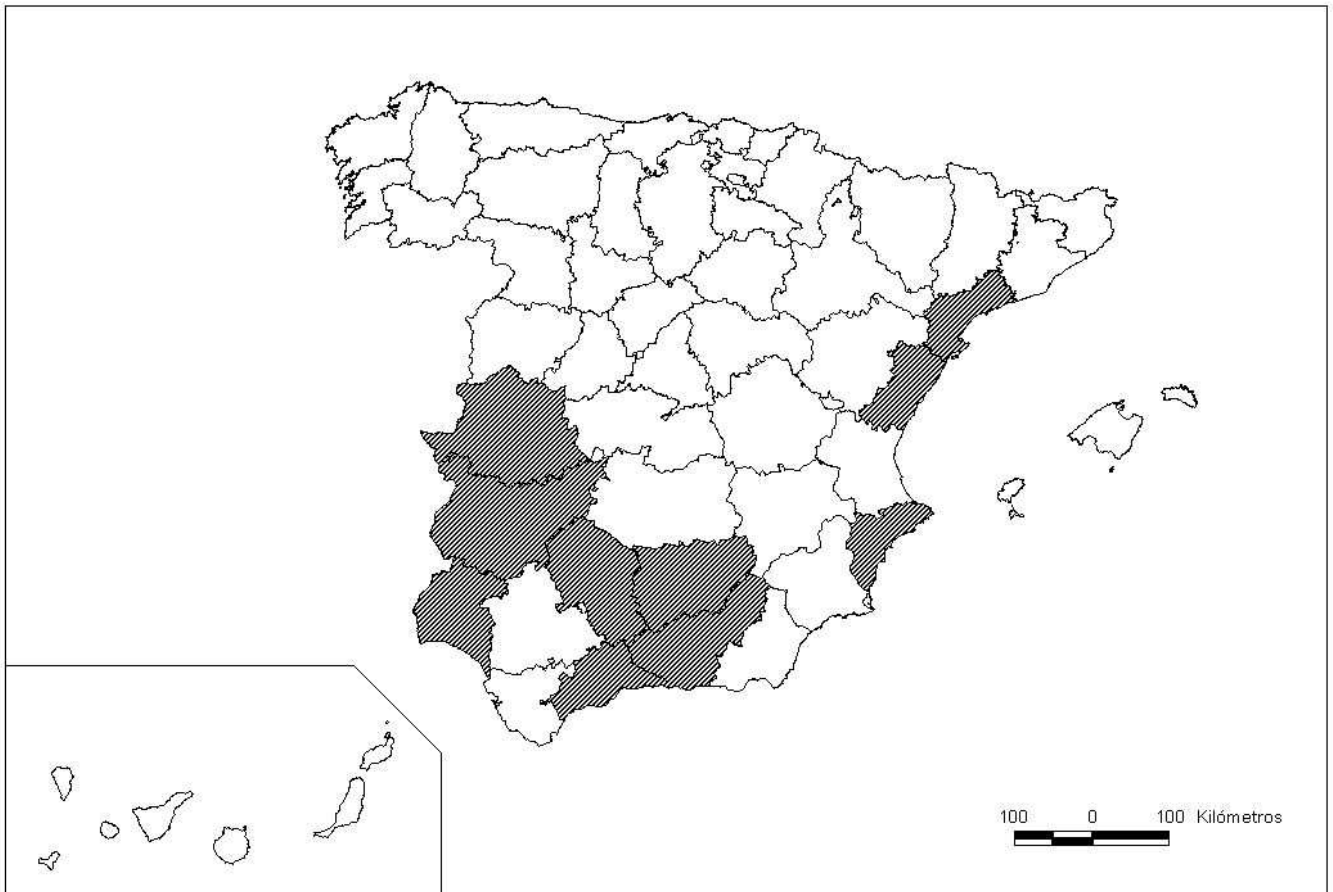
Puntuación máxima: 2,5 puntos.



4ª Parte

A la vista del mapa adjunto que recoge las **“Provincias en las que más del 14,5% de las tierras cultivadas son de olivar (media nacional: 13,2%)”**, indique el nombre de las mismas; señale las razones que explican esta distribución y comente algunas consecuencias demográficas, sociales y económicas emanadas de este hecho.

Puntuación máxima: 2 puntos.



FUENTE: ANUARIO DE ESTADÍSTICA DEL MINISTERIO DE MEDIO AMBIENTE Y MEDIO RURAL Y MARINO, 2008.

GEOGRAFÍA

CRITERIOS ESPECÍFICOS DE CORRECCIÓN Y CALIFICACIÓN

A) CRITERIO GENERAL:

La puntuación total será, en ambas pruebas, de **10 puntos**, correspondiendo a la primera parte **1'5 puntos**; a la segunda, **4 puntos**; a la tercera, **2'5 puntos**, y a la cuarta, **2 puntos**. La estructura y los criterios de corrección serán los siguientes, tanto para la **Opción A** como para la **Opción B**.

B) CRITERIOS CONCRETOS:

1ª. Primera parte:

1,5 puntos (cada término o concepto: *0'25 puntos*).

Definición de una serie de *términos geográficos y conceptos*. Las respuestas deberán valorarse con un criterio amplio, ya que son numerosas las posibilidades expresivas correctas. En todo caso, se atenderá a la precisión geográfica en la caracterización del término o concepto, y a la claridad conceptual.

2ª. Primera parte:

4 puntos

Trata del “*desarrollo de un tema*”, valorando fundamentalmente la ordenación, la estructuración, la coherencia expositivo-argumentativa; la claridad, la precisión y la organización sintética de los conocimientos, junto con la correcta localización, la comprensión y caracterización de los fenómenos geográficos que se suman al grado y profundidad de los conocimientos.

3ª. Primera parte:

2,5 puntos

Propone “*el comentario de un documento geográfico*”.

* Opción A: “*Comentario de una lámina*”. Se valorará positivamente la existencia de una metodología de comentario de fotografías. **Cuenca Ciudad.**

* Opción B: “*Comentario de un instrumento gráfico*”. Se valorará la capacidad de extraer información, analizar los datos y caracterizar la situación, en una relación causa-efecto. **Climograma de La Palma. Clima subtropical húmedo**

4ª. Primera parte:

2 puntos

Presenta unos *mapas* cuyo comentario tiene una puntuación máxima de **2 puntos**; en ellos debe atenderse a la correcta localización y caracterización de los elementos solicitados.

Opción A: **Álava, Madrid, Guadalajara, Baleares, Alicante, Murcia, Almería, Cádiz, Santa Cruz de Tenerife, Las Palmas.**

Opción B: **Tarragona, Castellón, Alicante, Cáceres, Badajoz, Huelva, Córdoba, Jaén, Málaga, Granada .**

En las cuatro partes de que consta la prueba, se considerarán elementos de ponderación; v.gr.: la calidad de la redacción, la corrección expositivo-argumentativa, la gramatical y la ortografía.

